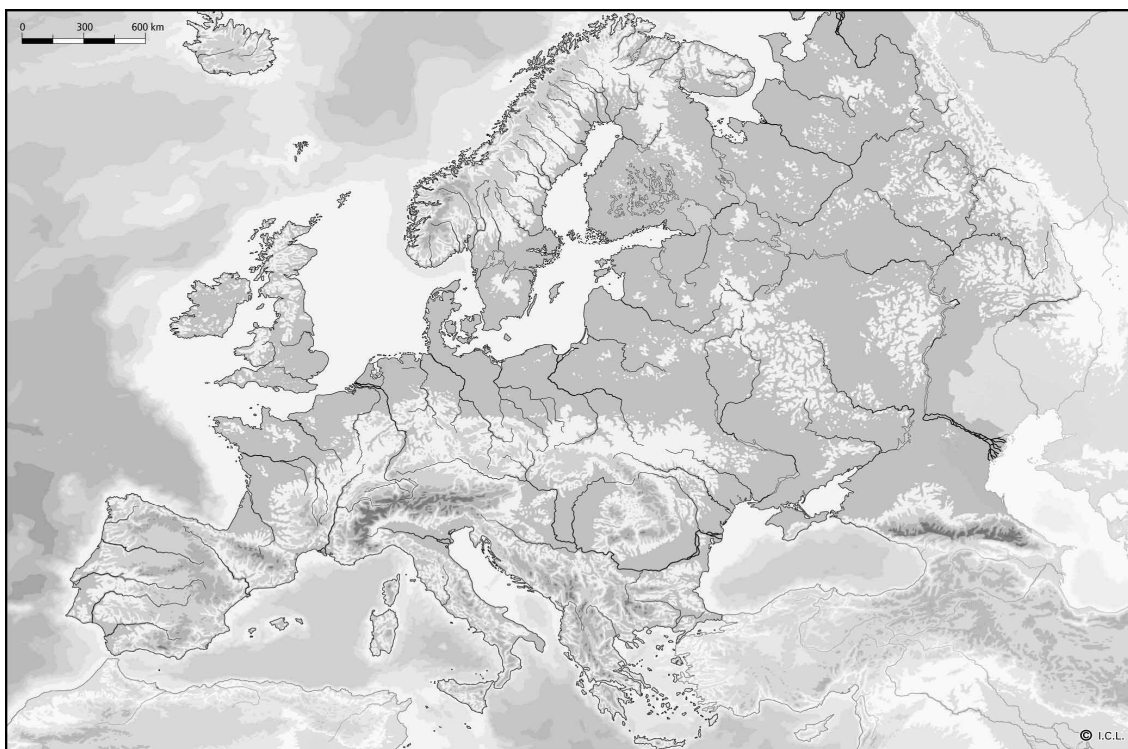




- 1. Anomena les parts del relleu de Catalunya.**
- 2. A quin continent vivim?**
- 3. Anomena els països que fan frontera amb Espanya.**
- 4. Explica les característiques del Pirineu Axial**
- 5. Explica com és la vida a la costa**
- 6. Què és el relleu?**
- 7. Anomena els tipus de costes i explica'n les diferències.**

**8. Pinta en color blau (Espanya) i Groc (Catalunya).**



**9. Escriu i situa les condicions climàtiques del planeta Terra.**



**10. Escriu i situa les Comunitats Autònomes de l'Estat Espanyol.**



**11. Anomena el nom dels oceans.**

**12. Completa:**

<i>PAÍS</i>	<i>CAPITAL</i>
	Madrid
Alemanya	
	Luxemburg
	Roma
França	
	London
Luxemburg	
	Praga
Suècia	
Portugal	

**13. Escriu el nom dels continents.**

**14. Què hi trobem representat en els mapes**

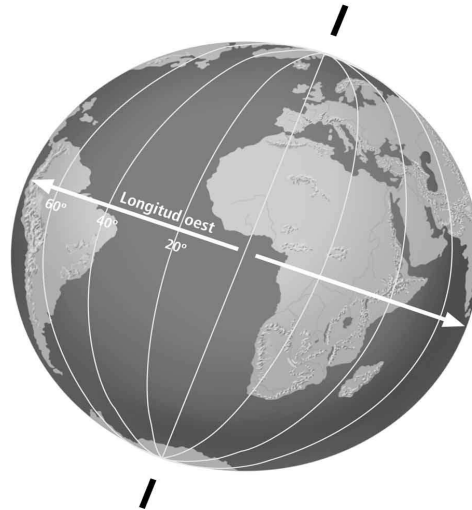
a) físics

b) de xarxes de comunicació

**15. El territori de Catalunya es divideix en 4 províncies, quines són?**

16. Localitza en el globus terraquí cadascun dels elements que s'enumeren a continuació:

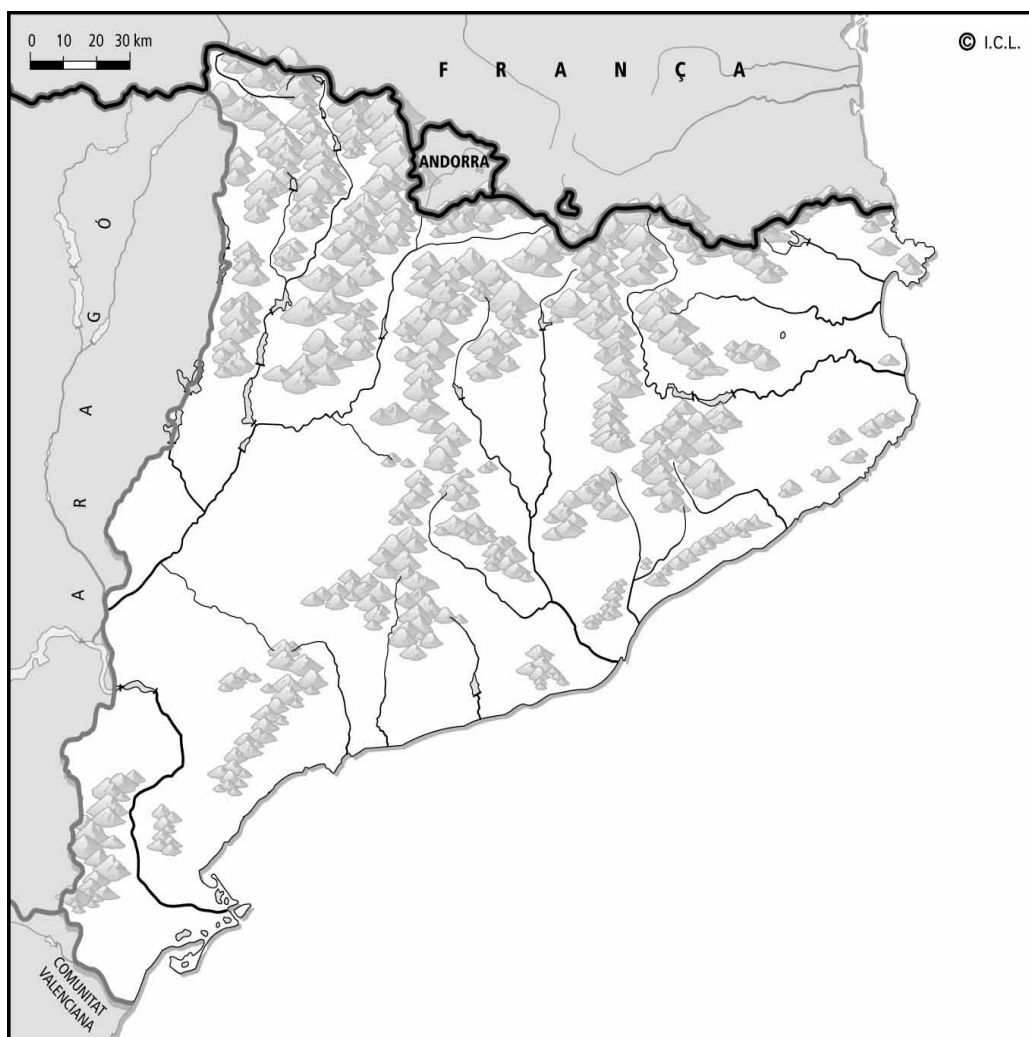
1. L'eix de la Terra
2. L'Equador
3. L'hemisferi nord
4. El Meridià de Greenwich
5. El meridià 20° longitud est
6. El Pol Nord
7. El Pol Sud



17. Com aprofitem l'aigua dels rius catalans?



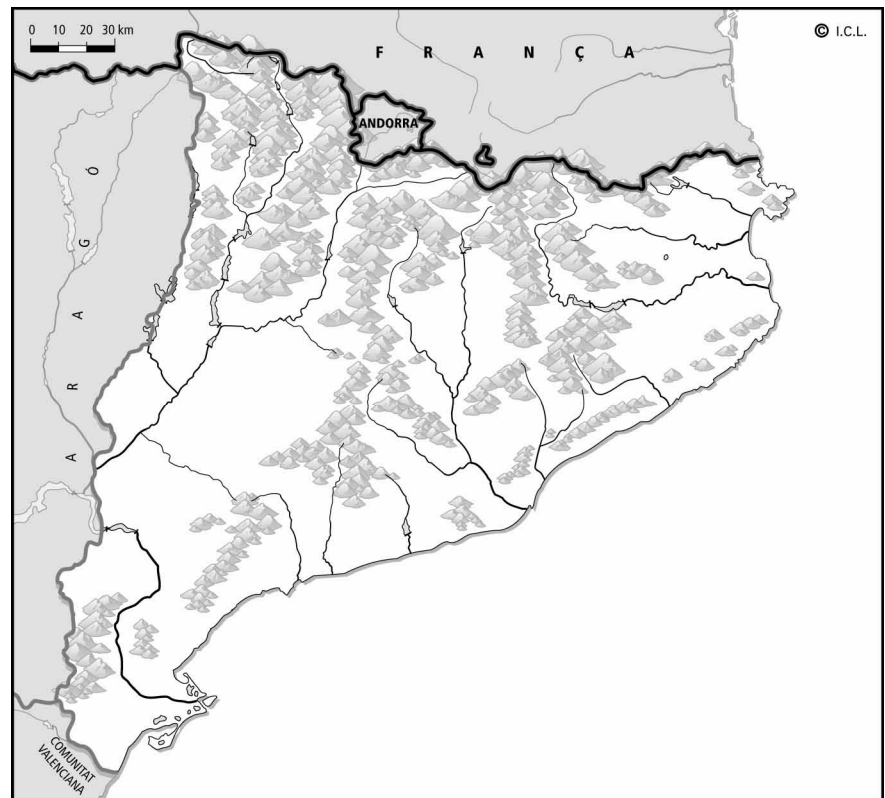
18. Situa els rius catalans en el següent mapa



19. Localitza en el mapa físic de Catalunya les unitats de relleu següents:



1. Pirineu axial
2. Prepirineu
3. Depressió Central
6. Serralada Litoral



20. Què és el clima?

21. Anomena i explica els factors climàtics que fan que el clima variï en una zona.

**22. Anomena els parcs nacionals i els parcs naturals que coneguis.**

**23. Explica la vegetació de muntanya que trobem a Catalunya.**

**24. Completa utilitzant: temperatures – mar – precipitacions – altitud**

Les ..... i les ..... determinen el clima.

El ..... suavitza el clima d'un lloc.

A mesura que augmenta la ..... disminueix la temperatura.

**25. Explica les principals característiques dels rius catalans**

**26. Explica la diferència entre espai natural i espai natural protegit**





**27. Anomena les varietats climàtiques de Catalunya**

**28. Quin tipus de clima predomina a Catalunya? Per què creus que predomina aquest?**

**29. Posa cada frase a la columna on correspongui**

- |   |   |
|---|---|
| - No utilitzar fusta d'espècies amenaçades. | - Els incendis.                         |
| - Associar-se a grups de defensa del bosc.  | - La construcció de pantans.            |
| - Llençar deixalles.                        | - La construcció de centrals tèrmiques. |
| - Consumir paper reciclat.                  | - No fer foc al bosc.                   |

**ACCIONS QUE PROTEGEIXEN**  
EL PAISATGE DE MUNTANYA

**ACCIONS QUE FAN PERILLAR**  
EL PAISATGE DE MUNTANYA

**30. Característiques del clima litoral.**

**31. Dibuixa un paisatge protegit, i un paisatge destrossat per l'acció de l'home.**

**PAISATGE DESTROSSAT PER L'ACCIÓ DE L'HOME**

**PAISATGE PROTEGIT**

**32. Quina diferència hi ha entre població urbana i rural?**

**33. On buscaries en una ciutat:**

- Monuments històrics
- Habitatges de considerable alçada
- Indústries
- Activitats relacionades amb l'oci i el turisme

**34. Què és la densitat de població?**

**35. Quins són els factors (4) que intervenen en el creixement de la població catalana?**

**36. Explica el concepte de feina remunerada i feina no remunerada.**

**37. Explica la diferència entre Importar i Exportar**

**38. Què és la densitat de població?**

**39. Quins són els factors (4) que intervenen en el creixement de la població catalana?**

**40. Explica el concepte de feina remunerada i feina no remunerada.**

**41. Explica la diferència entre immigrants i emigrants.**

**42. Anomena les causes que han produït que treballi poca gent a les feines agrícoles, ramaderes i pesqueres.**



**43. Construeix un gràfic lineal de l'evolució de la població malgratenca (imaginaria) durant el segle XX.**

ANY	HABITANTS
1900	500
1910	750
1920	1200
1930	1550
1940	1800
1950	2000
1960	2110
1970	2200
1980	2650
1990	3000

**44. Construeix un gràfic de barres del nombre de població per pobles al maresme.**

<b>POBLES</b>	<b>HABITANTS</b>
Malgrat	1500
Pineda	700
Calella	2000
Sant Pol	600
Canet	750
Palafolls	900
Blanes	3100
Lloret	2900
Santa Sussanna	1800
Arenys	2200

**45. On buscaries en un poble:**

- **L'Església**
- **Els equipaments esportius**
- **Masies, granges...**
- **Una benzinera**

**46. Quines són les causes del creixement de la població?**

**47. Per què la gent marxa de la població rural?**

**48. Quina és la Comunitat Autònoma de l'Estat Espanyol més industrialitzada?**

**49. Què vol dir que la xarxa viària de Catalunya té una estructura radial?**

**50. Tipus de transports a Catalunya. Explíca'ls.**

**51. Què és el comerç?**

**52. Quines dues classes d'establiments comercials coneixes? Explíca'ls.**

**53. Quins són els factors que expliquen la forta industrialització a Catalunya?**

**54. Quina és l'oferta turística a Catalunya?**

**55. Escriu V (verdader) o F (fals):**

**La indústria pesant elabora productes per al consum.**

**En el sector primari és on hi ha més població ocupada.**

**La majoria de les indústries de Catalunya es localitzen al Barcelonès i a les comarques del voltant.**

**La xarxa viària de Catalunya té una estructura radial, el centre de la qual és Badalona.**

**56. Tipus de transport marítim, i els dos ports més importants de Catalunya.**

**57. Tipus d'indústria.**



**58. Què és l'Estatut d'Autonomia de Catalunya?**

**59. Què és la Constitució Espanyola?**

**60. Què és la Generalitat de Catalunya?**



**61. Quines són les principals institucions de la Generalitat de Catalunya? Explica'n la funció.**

**62. Quina és la bandera de Catalunya? Com s'anomena l'himne de Catalunya? I quan es celebra la diada de Catalunya?**



**63. Busca informació sobre l'origen de la bandera de Catalunya?**

**64. Qui és actualment el President o la Presidenta de la Generalitat de Catalunya?  
Explica com s'esculleix el President i qui ho fa.**



**65. Quines són les etapes o períodes de la història de la humanitat?**

**66. Quants anys són:**

**Un mil·leni?**

**Una dècada?**

**Un segle?**

**67. Quin any és més proper a nosaltres, l'any 524 a.C. o l'any 138 a.C.?  
I entre l'any 540 d.C. i el 873 d.C.?**

**68. Quines són les 3 etapes de la Pre-història?**

**69. A quin segle correspon l'any:**

**1967:**

**25:**

**2005:**

**234:**

**70. A partir de quina data comencem a comptar els fets històrics de la humanitat?**

**71. Explica la vida dels homes del Paleolític (on vivien, com s'alimentaven, estris que fabricaven...)**



**72. Explica la vida dels homes del Neolític (on vivien, com s'alimentaven, estris que fabricaven...)**



**73. Explica la vida dels homes de l'Edat dels Metalls (on vivien, com s'alimentaven, estris que fabricaven...)**



**74. Explica què és l'art rupestre. Quins materials utilitzaven per pintar, quins animals pintaven, per què ho feien...?**



**75. Quins eren els pobles preromans de la península?**

**76. Els pobles preromans on solien situar els seus poblats?  
Per què?**

**77. On i quina colònia van fundar els grecs?**

**78. Com eren les cases dels poblats preromans?**

**79. Anomena 4 pobles ibèrics?**

**80. Què dominaven els romans i a què aspiraven?**

**81. A quin procés s'anomena romanització?**

**82. Com s'anomenava a la Península Ibèrica en temps dels romans?**

**83. Com s'anomenaven els habitatges romans? Què els diferenciava?**

**84. Anomena 2 edificis romans...**

**Urbans:**

**D'esbarjo i entreteniment:**

**Monuments:**

**85. Què proclamava el cristianisme?**

**86. Què vol dir politeïsta?**

**Anomena 5 déus romans.**

**87. Quants anys van trigar els romans a conquerir la Península Ibèrica?**

**Explica les fases en què es va desenvolupar la conquesta romana.**

**88. Tradueix aquestes ciutats romanes al nom actual.**

**Rhoda:**

**Ilerda:**

**Ausa:**

**Baetulo:**

- 89. Quin nom van posar a una part molt extensa del territori peninsular els musulmans?**
- 90. Quina diferència hi havia entre la Catalunya Vella i la Catalunya Nova?**
- 91. Anomena i explica els estaments que hi havia a la societat feudal**
- 92. Explica la formació de la dinastia catalanoaragonesa.**
- 93. Qui formava el nou grup social dels S.XI i XII i a què es dedicaven?**
- 94. Per què la producció agrícola era escassa en aquells temps?**
- 95. Què eren els gremis?**
- 96. Que hem heretat de la societat musulmana?**
- 97. Explica les diferències entre el gòtic i el romànic. (murs i finestres, façana, parets interiors, tipus d'edifici).**
- 98. Quines eren les tasques diàries dels monjos?**

**99. Com sorgiren i com es desenvoluparen les ciutats medievals?**



**100. Busca informació sobre Jaume I el Conqueridor.**